

25. Hangisi kişisel bakıma girer?
A) Saçları taramak B) Defteri kaplamak C) Zamanında uyumak
26. Hangisi sınıf eşyası değildir?
A) Kitap dolabı B) Tenis raketi C) Sıra
27. Verilen bilgilerden hangisi doğrudur?
A) Herkesin yetenekleri birbirinden farklıdır.
B) Herkesin düşünceleri aynıdır.
C) Herkes aynı yeteneklere sahiptir.
28. Aşağıdaki taşıtlardan hangisi karada hareket eder?
A) otobüs B) gemi C) helikopter
29. Aşağıdaki besinlerden hangisi daha sağlıklıdır?
A) hamburger B) kola C) börek
30. Hata yapan arkadaşımıza tutumumuz nasıl olmalıdır?
A) sevinçli B) hoşgörülü C) kızgın
31. Yayalar karşıya geçmek için hangi ışığın yanmasını beklemelidir?
A) kırmızı B) sarı C) yeşil
32. Hangi seçenekte taşıt ve sürücüsü yanlış eşleştirilmiştir?
A) uçak - astronot B) gemi - kaptan C) tren - makinist
33. "Okul çantamı göre hazırlamalısın." Cümlesinde boş bırakılan yere hangi sözcük gelmelidir?
A) keyfine
B) ders programına
C) kitapların kalınlığına

T. D. Ak

TÜRKÇE DERSİ SORULARI

1. Aşağıdakilerden hangisi bir cümledir?
A) Tatilde ailece denize.
B) Tavşan yavrusunu yuvaya.
C) Geri gelirken çantamı da al.
2. Aşağıdaki kelimelerden hangisi yanlış hecelenmiştir?
A) a - i - lem - iz B) yu - mur - ta C) tren - ler
3. Verilen kelimelerden hangisi üç hecelidir?
A) yangın B) itfaiye C) hemşire
4. "Sabahleyin arkadaşlarıma derim." cümlesinde boş bırakılan yere hangi kelime gelmelidir?
A) iyi geceler B) günaydın C) iyi tatiller
5. "Dedem bağçeden gül kopardı." cümlesinde baştan kaçınıcı kelime yanlış yazılmıştır?
A) birinci B) ikinci C) üçüncü
6. Hangi cümlede zıt anlamlı kelimeler bir arada kullanılmıştır?
A) Yayalar alt ve üst geçitleri kullanmalıdır.
B) Zengin adam yeni ev almış.
C) Tatlı elmayı severim.
7. Hangi cümlede kesme işareti (') yanlış kullanılmıştır?
A) Nurgül'ün annesi pazardan geldi mi?
B) Fatih'in babası Erzincan'a gidecek.
C) Atatür'kün doğduğu şehir Selanik'tir.




8. "Ş - I - A - T - T " harfleri ile hangi kelime yazılabilir?
A) TAŞIT B) TANIŞ C) ÂŞIK


9. Aşağıdaki eş anlamlı kelime çiftlerinden hangisi yanlış eşleştirilmiştir?
A) kalp - yürek B) doğa - tabiat C) güzel - çirkin




10. "diz" kelimesi hangi cümlede bir şeyi sıralamak anlamında kullanılmıştır?
A) Ali, yere düşünce dizi acıdı.
B) Esmâ teyze boncukları dizmiş.
C) Osman, dizini sıraya vurmuş.

11. Aşağıdaki varlıklardan hangisinin sayısı birden fazladır?
A) otomobil B) gemiler C) tramvay

MATEMATİK DERSİ SORULARI

12. Aşağıdaki cisimlerden hangisi silindire benzer?
A)  B)  C) 

13. Yandaki prizma modelinin boyanmış bölgelerine ne denir?
A) ayrıt B) yüz C) köşe 

14. Hangi seçenekteki geometrik cisim modelinde, köşe bulunmaz?
A)  B)  C) 

15. Bir düzine kalem, bir deste kalemden kaç tane fazladır?
A) 2 B) 3 C) 4

16. Aşağıdaki hangi sayı "doksan dört" diye okunur?
A) 49 B) 64 C) 94

17. Ahmet'in 8 boya kalemi var. Ahmet, kaç tane boya kalemi alırsa bir düzine kalemi olur?
A) 2 B) 4 C) 6

18. "5 onluk, 8 birlik" ten oluşan sayı hangisidir?
A) 85 B) 58 C) 13

19. 

- Yukarıda onluk ve birlikleri gösterilen sayı hangisidir?
A) 27 B) 17 C) 9

20. "otuz altı" sayısında kaç onluk ve kaç birlik vardır?
A) 2 onluk, 6 birlik B) 3 onluk, 6 birlik C) 6 onluk, 3 birlik

21. 1 TL'nin içinde kaç tane 50 Kr vardır?
A) 3 tane B) 2 tane C) 1 tane

22. Tanesi 6 TL'den, 3 tane kravat aldım. Satıcıya 20 TL verdim. Geriye kaç lira alacağım?
A) 2 B) 9 C) 14

HAYAT BİLGİSİ DERSİ SORULARI

23. Arkadaşları Sema'yı oyuna almadı. Sema neler hissetti?
A) Mutluluk B) Heyecan C) Üzüntü

24. Bayrağımıza saygı göstermek niçin önemlidir?
A) Renkleri hoşumuza gittiği için
B) Bağımsızlık sembollerinden biri olduğu için
C) Üzerinde yıldız şekli olduğu için